

NAME: _____


Making Money

1 Number the salaries of the following jobs in order from least to greatest.

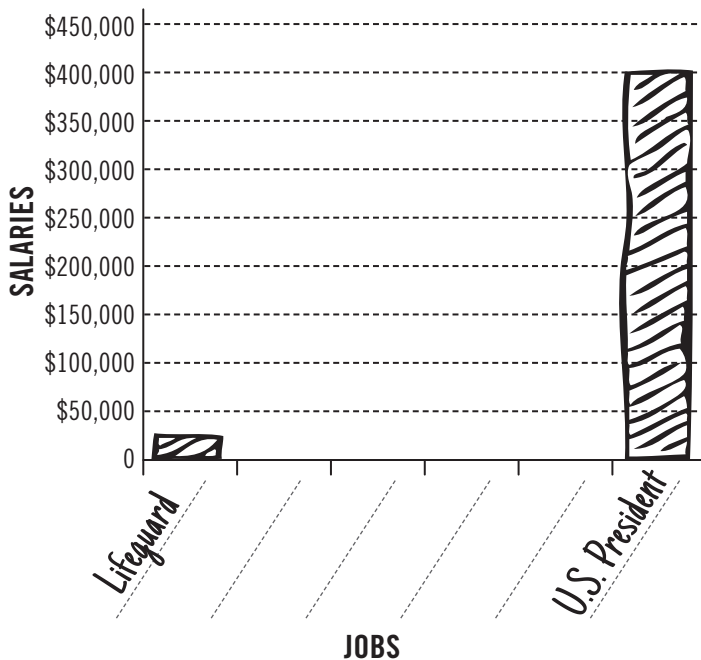
- ___ Bus driver \$35,000
- ___ Lawyer \$105,000
- ___ Lifeguard \$20,000
- ___ Police officer \$40,000
- ___ NBA player \$5,150,000
- ___ U.S. President \$400,000



3 Mr. Quick hired Shelly to walk his turtle while he was on vacation. Shelly walked the turtle around the bathtub two hours each day for five days. If Mr. Quick paid Shelly \$3 for each hour, how much did Shelly earn in total?



After numbering the salaries from least to greatest, complete the bar graph below. Two bars have been completed for you. (Do not include the NBA player. The bar for the NBA player would be more than 12 times as tall as the bar for the President.)



4 Jeannie and Bunny put on a magic show for the kids in their neighborhood. They charged each kid 50¢ admission. If 12 kids came to their show, how much did Jeannie and Bunny earn?

2 Last year, Dr. Brush, a dentist, earned a salary of \$157,300. Mr. Needle, a nurse, earned a salary of \$65,430. How much more did Dr. Brush earn than Mr. Needle?

BONUS!

Find the average of the salaries in Problem 1 to the nearest dollar. Then unscramble the letters of the correct answer to the riddle.

- A) \$139,687 yenom
- B) \$958,333 gudoh
- C) \$786,423 yaslar
- D) \$40,000 gawse

Riddle:

Why did the baker go out of business?
Because he didn't make enough _____.

NOMBRE: _____

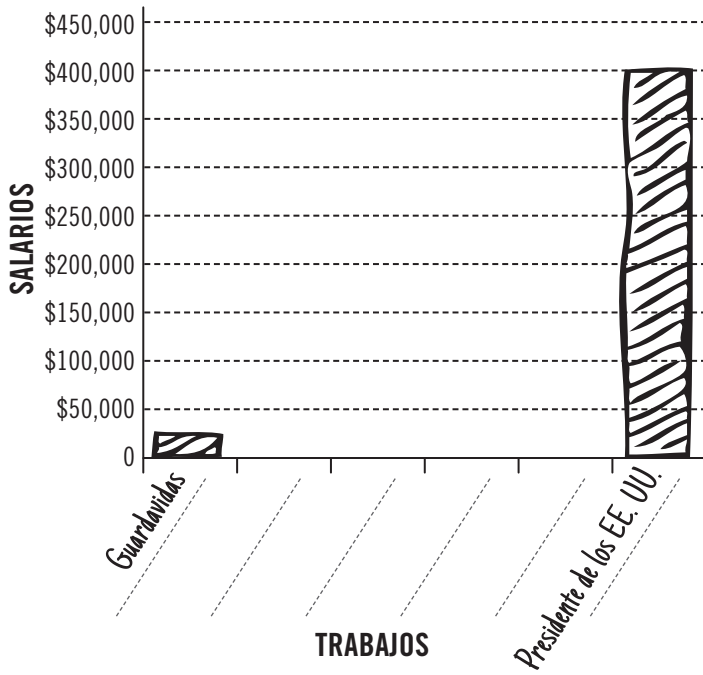
GANAR DINERO

1 Enumera y ordena los salarios de estos trabajos de menor a mayor.

- ___ Conductor de autobús \$35,000
- ___ Abogado \$105,000
- ___ Guardavidas \$20,000
- ___ Oficial de policía \$40,000
- ___ Jugador de la NBA \$5,150,000
- ___ Presidente de los EE. UU. \$400,000




Después de enumerar los salarios de menor a mayor, completa el gráfico de barras a continuación. Ya tienes dos barras completadas. (No incluyas al jugador de la NBA. La barra para ese jugador sería 12 veces más alta que la barra del presidente).



2 El año pasado, el Dr. Brush, dentista, ganó. El Sr. Needle, enfermero, ganó. ¿Cuánto más ganó el Dr. Brush que el Sr. Needle?

3 El Sr. Quick contrató a Shelly para que paseara a su tortuga mientras estaba de vacaciones. Shelly hizo caminar a la tortuga alrededor de la tina dos horas todos los días durante cinco días. Si el Sr.Quick le pagó a Shelly \$3 por hora, ¿cuánto ganó Shelly en total?





4 Jeannie y Bunny hicieron un show de magia para los niños del vecindario. Cobraron una entrada de 50¢ por niño. Si fueron 12 niños al show, ¿cuánto ganaron Jeannie y Bunny?

ACTIVIDAD EXTRA

Averigua el promedio de salarios del problema 1, redondeando al valor entero en dólares más cercano. Ordena las letras de la respuesta correcta al acertijo.

- A) \$139,687 orenid
- B) \$958,333 sama
- C) \$786,423 oiaslar
- D) \$40,000 elusdo

Acertijo:

¿Por qué el panadero dejó el negocio?
Porque no hacía suficiente _____.